

令和6年度 高知県立中学校

適性検査問題 A

注 意

- 1 「はじめなさい。」の合図^{あいず}があるまで、問題用紙を開いてはいけません。
- 2 検査問題は、1ページから10ページで、問題番号は□1から□3まであります。
- 3 解答用紙は問題用紙の中にはさんでいます。
- 4 「はじめなさい。」の合図があったら、まず、問題用紙や解答用紙の決められた場所に受検番号を書きなさい。
- 5 答えはすべて解答用紙の決められた場所^{ところ}に書きなさい。
- 6 検査時間は45分間です。
- 7 質問や問題用紙・解答用紙に印刷ミスがあるときは、静かに手をあげてください。
- 8 「やめなさい。」の合図があったら、すぐに筆記用具を置き、指示にしたがってください。

受検番号

受検番号

1 次の文章を読み、後の問1～5に答えなさい。

著作権保護のため掲載していません。



問1 文章中の——線部1の「電」と同じ部首の漢字を、「電」以外に二つ書きなさい。

問2 文章中の a・b に当てはまる言葉として最も適切なものを、それぞれ次のア～エから一つ選び、その記号を書きなさい。

- a ア さて イ ところが ウ または エ すると
b ア そこで イ すなわち ウ しかも エ なぜなら

問3 文章中の——線部2の「そういうもの」をまとめて言いかえている言葉を、文章中から五字以内でそのまま抜き出して書きなさい。

問4 文章中の——線部3の「もちろん」が修飾しゅうしやくしている言葉を、次のア～エから一つ選び、その記号を書きなさい。

- ア どこにも
イ 針を
ウ 工場は
エ ありません

問5 文章中の——線部4にある「ふたりの志」について、次のように【ノート】にまとめました。次の【ノート】を読み、後の(1)・(2)に答えなさい。

【ノート】

<p>◇医りよう機器メーカーの人</p> <ul style="list-style-type: none">・注射をする必要がある多くのかん者にとって、cがあるとどんなにいいだろう。・百けんもの工場をたずね歩いてでもさがしたい。	<p>◇岡野工業の岡野さん</p> <ul style="list-style-type: none">・医りよう機器メーカーの人の思いにこたえたい。dにちょう戦したい。
<p>苦勞があつてもくふうを重ね、あきらめない心</p>	

(1) 【ノート】中の c・d に当てはまる言葉として適切なものを、文章中から c は七字、d は十四字でそのまま抜き出して書きなさい。

(2) 文章や【ノート】を読んで、志を高く持つことについて、あなたはどのように考えますか。そう考える理由もふくめて、あなたの考えを八十字以上百字以内で書きなさい。

- 2 さくらさんたちは、日本の郷土料理と食文化について、【日本の郷土料理（一部）】を見ながら先生と話し合いました。【日本の郷土料理（一部）】と【会話】を読んで、下の問1～6に答えなさい。

【日本の郷土料理（一部）】

県名	郷土料理名	主な材料
秋田県	きりたんぼなべ	米，とり肉，ごぼう，長ねぎ，せり
山形県	いもに	さといも，牛肉，こんにゃく，ねぎ
静岡県	がわ	かつお，玉ねぎ，きゅうり，青じそ，しょうが，梅干し，みそ
石川県	じぶに	とり肉，すだれふ，わさび，せり，しいたけ
宮崎県	冷やじる	きゅうり，青じそ，みょうが，麦飯，いりこ，とうふ

(農林水産省のウェブページより作成)

【会話】

先生：今日は、日本の郷土料理について話をしましょう。郷土料理とは、地域の特産物を生かして、受けつがれてきた料理のことです。みなさんは、郷土料理というものを食べたことがありますか。

さくら：夏休みに、静岡県へ旅行に行き、「がわ」という料理を食べました。「がわ」は、かつおを使った冷やしみそでした。

あんな：静岡県の沖合は、①海流が流れていて、漁業がさかんであることを学習しました。静岡県はかつおの漁かく量が日本一で知られているのよ。

けん：かつおって昔から静岡県でたくさんとられていたのかな。

先生：奈良時代に平城京のあった場所では、現在の静岡県からかつおが運ばれてきたことを示す②木簡が発見されています。

けん：かつおがたくさんとれたから「がわ」という郷土料理が生まれたんだね。

先生：江戸時代には、③かつおは、かつおぶしに加工されるなどして江戸へ多く運ばれるようになりました。

いつき：郷土料理には、魚のほかに野菜が主な材料になっているものもあるよね。

先生：たとえば、宮崎県には、④きゅうり、青じそ、みょうが、麦飯、いりこ、とうふを使った「冷やじる」という郷土料理があります。夏の暑い時期でも簡単においしく食べられることから農家の人たちが栄養をとるために食べていましたが、地域によってさまざまな具を入れて食べるようになり、宮崎県全体に広がっていききました。

さくら：宮崎県の気候、風土にあった食べ方だったのね。

いつき：ほかにも、⑤米を主な材料とする郷土料理もありますね。

先生：米の生産がさかんな秋田県では、棒につけて焼いたごはんを使った「きりたんぼなべ」が食べつがれていますね。

いつき：日本のさまざまな地域で、その地域の特産物を生かした郷土料理が食べつがれていることがわかりました。

さくら：⑥私たちの地域の郷土料理についても調べてみたいです。

問1 【会話】中の下線部①に「海流」とありますが，【資料1】は，日本周辺の海流のようすを示した地図です。㊂，㊃に当てはまる海流の組み合わせとして正しいものを，下のア～エから一つ選び，その記号を書きなさい。

【資料1】



- | | | |
|---|---------------------------------|---------------------------|
| ア | ㊂-黒潮 <small>くろしお</small> （日本海流） | ㊃-リマン海流 |
| イ | ㊂-黒潮（日本海流） | ㊃-対馬海流 <small>つしま</small> |
| ウ | ㊂-親潮 <small>ちしま</small> （千島海流） | ㊃-リマン海流 |
| エ | ㊂-親潮（千島海流） | ㊃-対馬海流 |

問2 【会話】中の下線部②に「木簡」とありますが，【資料2】は，平城京のあった場所から発見された，荷札として用いられた木簡です。平城京があった場所から，このような木簡がたくさん発見される理由を書きなさい。

【資料2】

著作権保護のため掲載していません。

問3 【会話】中の下線部③に「かつおは，かつおぶしに加工されるなどして江戸へ多く運ばれるようになりました」とありますが，江戸時代に多くの人やものが行き来した，江戸と主要な都市を結ぶ五つの道をまとめて何というか，書きなさい。

問4 【会話】中の下線部④に「きゅうり」とありますが、次の【資料3】は、ある地域におけるきゅうりのろ地さいばいとし設さいばいの種まき、なえの世話、^{しゅう}収かくの時期を示したカレンダーです。ろ地さいばいと比べて、し設さいばいにはどのようなよさがあるか、書きなさい。

【資料3】

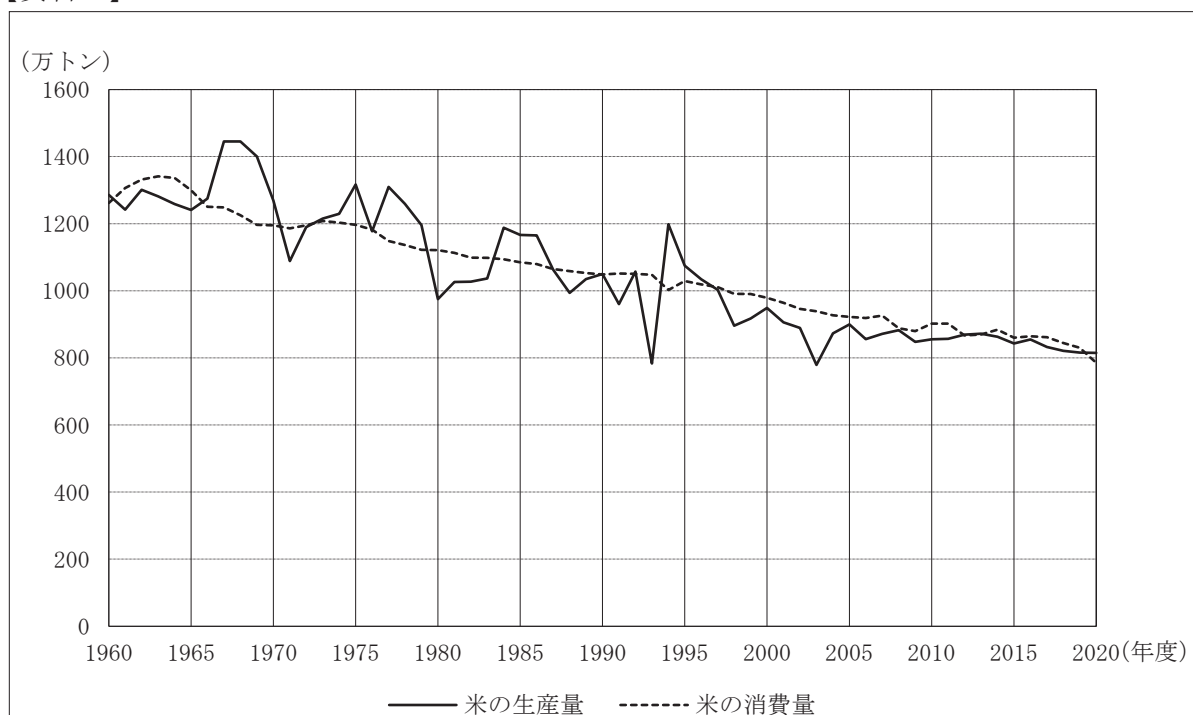
	4月	5月	6月	7月	8月	9月	10月	11月	12月	1月	2月	3月
ろ地さいばい	種まき	なえの世話	収かく									
し設さいばい	収かく					種まき	なえの世話	収かく				

(J A宮崎経済連の資料による)

(注) ろ地さいばい…太陽の光のもと、ハウスなどを使わずに育てること。

問5 【会話】中の下線部⑤に「米」とありますが、次の【資料4】は、1960年度から2020年度までの日本の米の生産量と米の消費量の変化を表したものです。【資料4】から読み取れることとして正しいものを、下のア～エから一つ選び、その記号を書きなさい。

【資料4】

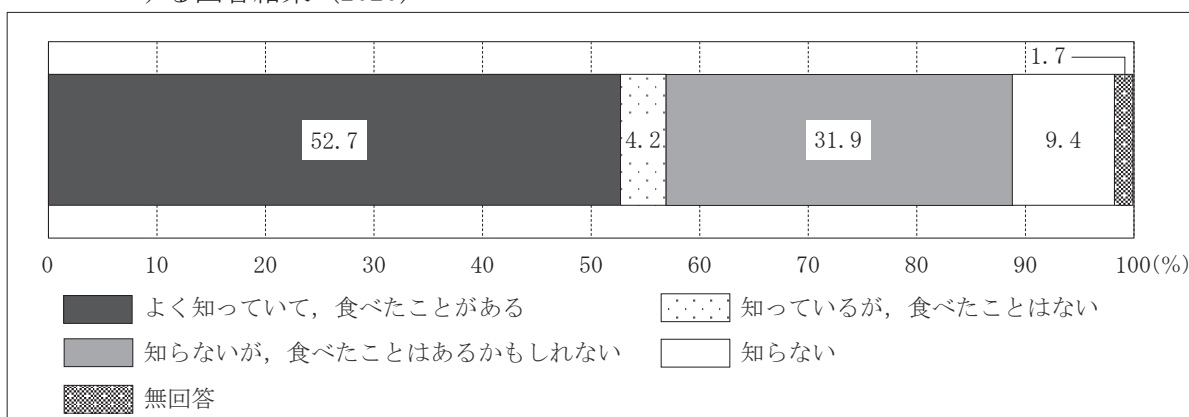


(農林水産省の資料による)

- ア 1960年度から2020年度の間で、米の生産量が最も多かったのは1960年度である。
- イ 1960年度から2020年度の間で、米の生産量は米の消費量に比べて、年度ごとの変化が大きい。
- ウ 1960年度から2020年度の間で、米の生産量と米の消費量の差が200万トン以上あったことはない。
- エ 2000年度から2020年度の間を見たとき、常に米の生産量が米の消費量を上回っている。




問6 【会話】 中の下線部⑥に「私たちの地域の郷土料理についても調べてみたいです」とありますが、さくらさんは、2020年に日本の20才以上の人々を対象に行われた意識調査の資料を見つけました。【資料5】は、この調査の中で、「生まれ育った地域の郷土料理や伝統料理について知っていますか」の質問に対する回答を表したものであり、【資料6】は、さくらさんが地域の人に行った郷土料理に関するインタビューをまとめたものです。【資料5】と【資料6】をもとに、あなたは、郷土料理が広められ、受けつがれていくようにするためにどのような取り組みを行えばよいと思いますか。そのように考えた理由もふくめて書きなさい。

【資料5】 「生まれ育った地域の郷土料理や伝統料理について知っていますか」の質問に対する回答結果（2020）



(農林水産省の資料による)

【資料6】 インタビューをまとめたもの

	 Aさん（75才）	 Bさん（35才）	 Cさん（12才）
よく食べる郷土料理	いなかずし、ぐるに、いたどりの油いため	さばの姿ずし、かつおのたたき	食べたことがない
食べる回数	週に2, 3回	2か月に1回程度	食べたことがない
郷土料理についてよいと思うこと	<ul style="list-style-type: none"> 身近にある食材で調理できる 食材により季節を感じられる 自分たちが暮らす地域の気候や風土にあっている 	<ul style="list-style-type: none"> 地元を知ることができる いっしょに食べることで人とつながることができる 	<ul style="list-style-type: none"> よくわからない
郷土料理についてのねがい	<ul style="list-style-type: none"> たくさん作りすぎてしまうので、みんなで食べる機会があるとよい 地元の食材のよさや郷土料理の調理法を伝えていきたい 	<ul style="list-style-type: none"> 郷土料理を食べる機会が増えるとよい 簡単に作ることができる調理法を知りたい 	<ul style="list-style-type: none"> 地域にどのような郷土料理があるか知りたい 地域の郷土料理を地域の人といっしょに作って食べてみたい

3 次の【文章】を読み，下の問1～4に答えなさい。

【文章】

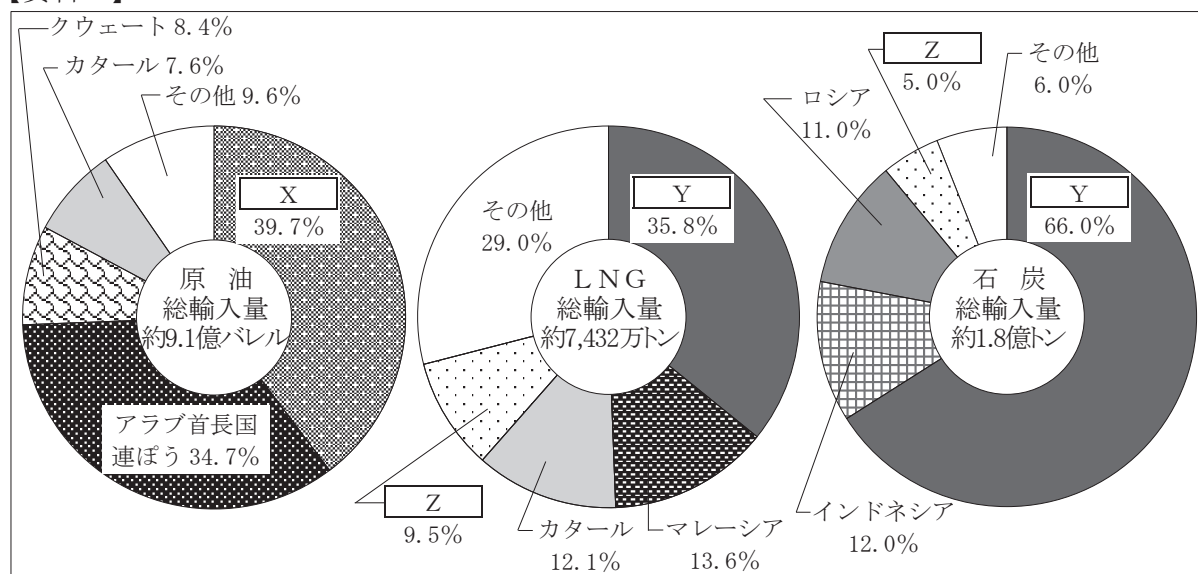
著作権保護のため掲載していません。

問1 【文章】で述べられている内容と合っているものを、次のア～エから一つ選び、その記号を書きなさい。

- ア 再生可能エネルギーは、安定して確保することができているため、海外からのエネルギー資源の輸入を減らすことができる。
- イ 化石燃料の利用は、発電コストが高くなることが多いので、再生可能エネルギーを利用する手段だけを考えていくことが重要である。
- ウ 環境問題は、地球温暖化によって引き起こされるため、化石燃料の使用を減らすことですべての環境問題は解決できる。
- エ エネルギーは、まず安全性を確保したうえで、各エネルギー資源の長所と短所をふまえて組み合わせて使うことが大切である。

問2 【文章】中の下線部①に「そこで、特定の資源だけに頼るのではなく、普段からさまざまな種類の資源を多くの国から輸入することで、エネルギーを安定して確保することが大事です」とありますが、次の【資料1】は、2021年における日本の原油、LNG（液化天然ガス）、石炭の主な輸入先をそれぞれ表したものです。【資料1】中のX、Y、Zはアメリカ合衆国、オーストラリア、サウジアラビアのいずれかです。【資料1】中のX、Y、Zの国名の組み合わせとして正しいものを、下のア～エから一つ選び、その記号を書きなさい。

【資料1】



(財務省の資料による)

(注) バレル…原油や石油類の体積を表す単位。1バレルは約160リットル。

	X	Y	Z
ア	オーストラリア	アメリカ合衆国	サウジアラビア
イ	オーストラリア	サウジアラビア	アメリカ合衆国
ウ	サウジアラビア	アメリカ合衆国	オーストラリア
エ	サウジアラビア	オーストラリア	アメリカ合衆国

問3 【文章】中の下線部②に「再生可能エネルギー」とありますが、次の【表】は、自然を生かしたさまざまな発電方法の特ちょうをまとめたものです。【表】中のA～Dは、風力発電、太陽光発電、バイオマス発電、水力発電のいずれかを表しています。Aは何か、書きなさい。

【表】

	特ちょう
A	<ul style="list-style-type: none"> ・学校の屋上や住宅の屋根などでも発電ができるが、多くの電気をつくるには、広い土地が必要である。 ・災害時の非常用電源としても大きな役目を果たす。 ・晴れの日以外は発電量が少なく、夜間は発電ができない。
B	<ul style="list-style-type: none"> ・動物や植物から生まれる資源を利用して発電をするため、はいき物の再利用や減少にもつながる。 ・季節や天候、昼夜を問わず安定した発電ができる。 ・資源が広い地域に分散しているので、収集・運ばんなどにコストがかかる。
C	<ul style="list-style-type: none"> ・陸上はもちろん海上でも発電可能で、夜間でも発電ができる。 ・天候などにえいきょうされやすく、安定した発電が難しい。 ・設置によって景観をそこねたり、そう音が発生したりする等の問題がある。
D	<ul style="list-style-type: none"> ・発電量を調整することができる。 ・降水量が少ないと発電量が減る。 ・新たな発電施設の建設は、コストがかかる。

(資源エネルギー庁ほかの資料より作成)

問4 次の【資料2】は、高知県の特ちょうの一部をまとめたものです。【文章】中の下線部③に『環境への負荷を減らす』、『安定して手に入れる』、『安く手に入れる』という3つの課題とありますが、あなたが、【資料2】の高知県の特ちょうを生かすことにより解決につながると考える課題はどれですか。下のア～ウから一つ選んでその記号を書き、課題の解決につながると考えた理由を、【資料2】で示した高知県の特ちょうを一つ以上使って、80字以上100字以内で書きなさい。

【資料2】

<ul style="list-style-type: none"> ・森林率が83.8%であり、全国1位である。 ・日照時間が長く、全国10位である。 ・年間降水量が多く、全国2位である。 ・山間部やみさきの周辺などでは、強い風がふいていることが多い。

(高知県の資料より作成)

ア 環境への負荷を減らす イ 安定して手に入れる ウ 安く手に入れる