

令和4年度（令和3年度実施）  
 高知県公立学校教員採用候補者選考審査  
 筆記審査（専門教養）  
 高等学校 特別支援学校 中学部・高等部  
 地理歴史（世界史，日本史，地理）

受審番号		氏 名	
------	--	-----	--

【注意事項】

- 1 審査開始の合図があるまで，この問題冊子の中を見ないでください。
- 2 解答用紙（マークシート）は2枚あります。切り離さないでください。
- 3 解答用紙（マークシート）は，2枚それぞれに下記に従って記入してください。  
 ○ 記入は，HBの鉛筆を使用し，該当する○の枠からはみ出さないよう丁寧にマークしてください。



- 訂正する場合は，消しゴムで完全に消してください。
- 氏名，受審する教科・科目，受審種別，受審番号を，該当する欄に記入してください。

また，併せて，右の例に従って，受審番号をマークしてください。

受 審 番 号				
万	千	百	十	一
1	2	3	4	5
○	○	○	○	○
●	○	○	○	○
○	●	○	○	○
○	○	●	○	○
○	○	○	●	○
○	○	○	○	●

記入例

(受審番号12345の場合)

- 4 この問題は，【共通問題】，及び【選択問題 高等学校】，【選択問題 特別支援学校】の各問題から構成されています。選択問題で受審種別以外の問題を選択して解答した場合，解答は全て無効となります。

- 5 解答は，解答用紙（マークシート）の解答欄をマークしてください。例えば，解答記号 ア と表示のある問いに対して b と解答する場合は，下の（例）のように ア の解答欄の b をマークしてください。

(例)

ア	a	●	c	d	e	0	1	2	3	4	5	6	7	8	9	.	-	±
---	---	---	---	---	---	---	---	---	---	---	---	---	---	---	---	---	---	---

なお，一つの解答欄に対して，二つ以上マークしないでください。

- 6 筆記審査（専門教養）が終了した後，解答用紙（マークシート）のみ回収します。監督者から指示があれば，この問題冊子を，各自，持ち帰ってください。



**【共通問題】**

第1問 次の1～3の問いに答えなさい。

1 次の(1)～(6)の問いに答えなさい。

(1) 次の写真は、ある遺跡のものである。この遺跡の名称と地図中の場所の組み合わせとして正しいものを、下のa～dから一つ選びなさい。 

ア
---

- |   |             |      |
|---|-------------|------|
| a | 名称－アンコールワット | 場所－X |
| b | 名称－アンコールワット | 場所－Y |
| c | 名称－ボロブドゥール  | 場所－X |
| d | 名称－ボロブドゥール  | 場所－Y |

(2) アフリカ大陸およびアメリカ大陸の古代文明について述べた文として正しいものを、次の a～d から一つ選びなさい。

- a エチオピア高原にマリ王国が成立した。
- b ニジェール川流域にモノモタパ王国が成立した。
- c メキシコ高原にテオティワカン文明が成立した。
- d アンデス高地にアステカ王国が成立した。

(3) 宗教戦争について述べた次の文、XとYの正誤の組み合わせとして正しいものを、下の a～d から一つ選びなさい。

X ドイツでは、ルターの教えを支持するシュマルカルデン同盟と皇帝カール5世の間の内戦ののち、アウクスブルクの和議が結ばれた。

Y ブルボン家のアンリ4世はカトリック勢力の中心人物であったが、ユグノー側に譲歩して改宗し、ナントの王命を発した。

- a X－正 Y－正
- b X－正 Y－誤
- c X－誤 Y－正
- d X－誤 Y－誤

(4) イスラーム世界について述べた文として誤っているものを、次の a～d から一つ選びなさい。

- a チャガタイ＝ハン国の分裂抗争で頭角をあらわしたティムールは、ティムール朝を開いた。
- b オスマン帝国はカルロヴィッツ条約により、ハンガリー・トランシルヴァニアなどをオーストリアに割譲した。
- c サファヴィー朝のアッバース1世が建設した首都バグダードは、「世界の半分」とよばれる繁栄をみせた。
- d ティムール朝の王子バーブルは、ヒンドゥー教徒が多数を占めるインドにムガル帝国を建てた。

(5) 中国の王朝・国家と周辺地域との関係について述べた文として正しいものを、次の a～d から一つ選びなさい。

- a 朝鮮では両班層が清朝を夷狄とみなして、儒教の儀礼が次第に廃れていった。
- b 鄭成功は台湾を支配し、鄭氏一族はここを拠点に清に抵抗した。
- c 清の乾隆帝は新疆を支配下におき、ここを直轄領として理藩院に統轄させた。
- d 辛亥革命を機に、モンゴルではダライ＝ラマ13世が独立を宣言した。

(6) 第二次世界大戦以降の日本と諸外国の関係について述べた次の文ア～エが、年代の古いものから順に正しく並べられているものを、下の a～e から一つ選びなさい。

- ア 日ソ共同宣言をうけて、日本の国際連合への加盟が認められた。
- イ 日本と韓国が、日韓基本条約を結び、国交を正常化した。
- ウ アメリカの統治下にあった沖縄が、日本に返還された。
- エ 為替相場に関する先進5カ国のプラザ合意に基づき、急激な円高ドル安が実現した。

- a ア → イ → ウ → エ
- b ア → エ → ウ → イ
- c イ → ア → ウ → エ
- d イ → ア → エ → ウ
- e イ → エ → ウ → ア

2 次の(1)・(2)の問いに答えなさい。

(1) 次の史料や絵画に関連して、続く①～③の問いに答えなさい。

定 今堀地下掟の事 合 延徳元年<sup>(注1)</sup>十一月四日

一、惣ヨリ屋敷請候て、村人ニテ無キ物<sup>(者)</sup>置くへからさる事

一、他所の人を地下ニ請人<sup>(注2)</sup>候ハて置くへからさる事

一、惣の地ト私ノ地トサイメ相論<sup>(注3)</sup>ハ金ニテすますヘシ

一、犬かうへからす事

一、家売タル人ノ方ヨリ、百文ニハ三文ツヽ、壹貫文ニハ卅文ツヽ、惣へ出すべきものなり。此旨に背く村人ハ座ヲヌクヘキなり

一、家売タル代、カクシタル人ヲハ、罰状ヲスヘシ

(今堀日吉神社文書より抜粋)

(注1) 1489年 (注2) 村人の引請人 (注3) 土地境界の争い

① 史料から読み取れることとして正しいものを、次のa～dから一つ選びなさい。

キ

- a 惣村では、村人でない者でも村内に自由に屋敷を構えることが奨励された。
- b 犬を飼うことは認められており、生活上の細かい事項も定められている。
- c 家を売った代金をかくした者は処罰された。
- d 惣村の共有地と個人の私有地との境界についての争いごとが起こった場合には、訴えを聞き入れた上で話し合いで解決することとされた。

② 惣村に関して述べた次の文、XとYの正誤の組み合わせとして正しいものを、下のa～dから一つ選びなさい。ク

X 領主へおさめる年貢などをひとまとめにして請け負う下地中分が、次第に行われるようになった。

Y 惣村の結合をもとに徳政などを要求する土一揆も起こり、嘉吉の徳政一揆では、幕府は土一揆の要求を受け入れて徳政令を發布した。

- a X - 正 Y - 正      b X - 正 Y - 誤
- c X - 誤 Y - 正      d X - 誤 Y - 誤

③ 次の絵画は、鎌倉時代の僧侶を描いたものである。この絵画に関連して述べた文として正しいものを、下の a～d から一つ選びなさい。

- a この絵画は、頂相とよばれ、浄土真宗の僧が尊敬する師の像の肖像画を描かせたものである。
- b この絵画は、似絵とよばれ、藤原秀郷がその名手として評価されたものである。
- c この絵画は、ひたすらに坐禅に徹することを説く曹洞宗を広めた栄西を描いたものである。
- d この絵画は、北条時頼に招かれて建長寺を開いた蘭溪道隆を描いたものである。

(2) 次の文を読み、続く①～③の問いに答えなさい。

明治政府は、富国強兵をめざして、欧米諸国から学者を招聘するとともに、欧米に留学生を派遣して政治制度や近代的学問の導入を図った。政府顧問となった外国人らの中には、伊藤博文の憲法草案作成を援助したロエスレルや、A山県有朋による地方制度の整備に協力したモッセら国家機構の確立に重要な役割を果たしたのもいた。

明治中期以降になると、B学問において、欧米に学んだ日本人によって自然科学を中心に世界的な研究成果が生み出されるようになったり、人文科学では実証的な研究方法が問題となったりすることもあった。

① 下線部Aに関連して、山県有朋内務大臣のもとで1888年に制定された地方制度に関する法令として正しいものを、次のa～dから一つ選びなさい。

a 市制・町村制      b 地租改正条例      c 郡区町村編制法      d 地方自治法

② 下線部Bに関連して、近代の科学について述べた次の文、XとYの正誤の組み合わせとして正しいものを、下のa～dから一つ選びなさい。

X 志賀潔がオリザニンの抽出に成功し、ビタミンB<sub>1</sub>を発見した。

Y 津田左右吉の論文「神道は祭天の古俗」が神道家らの反発を受けた。

a X－正 Y－正      b X－正 Y－誤  
c X－誤 Y－正      d X－誤 Y－誤

③ 右の写真は、冷戦の終結が宣言された米ソ首脳によるマルタ会談の写真である。この会談以降に起きた我が国に関連する出来事として、**誤っているもの**を、下のa～dから一つ選びなさい。

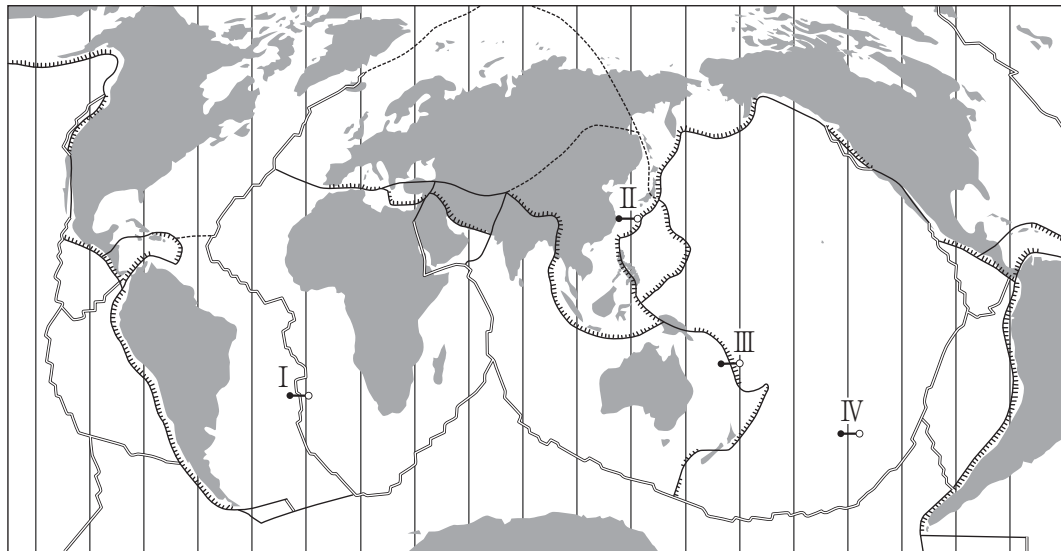
(『図説 日本史通覧』より引用)

- a 気候変動枠組条約締約国会議が日本で開催され、京都議定書が採択された。  
b アメリカの投資銀行リーマン＝ブラザーズが経営破綻し、日本経済は景気後退に見舞われた。  
c IMF（国際通貨基金）8条国に移行するとともにOECD（経済協力開発機構）に加盟し、為替と資本の自由化が実施された。  
d PKO（国連平和維持活動）協力法が成立し、自衛隊がカンボジアに派遣された。

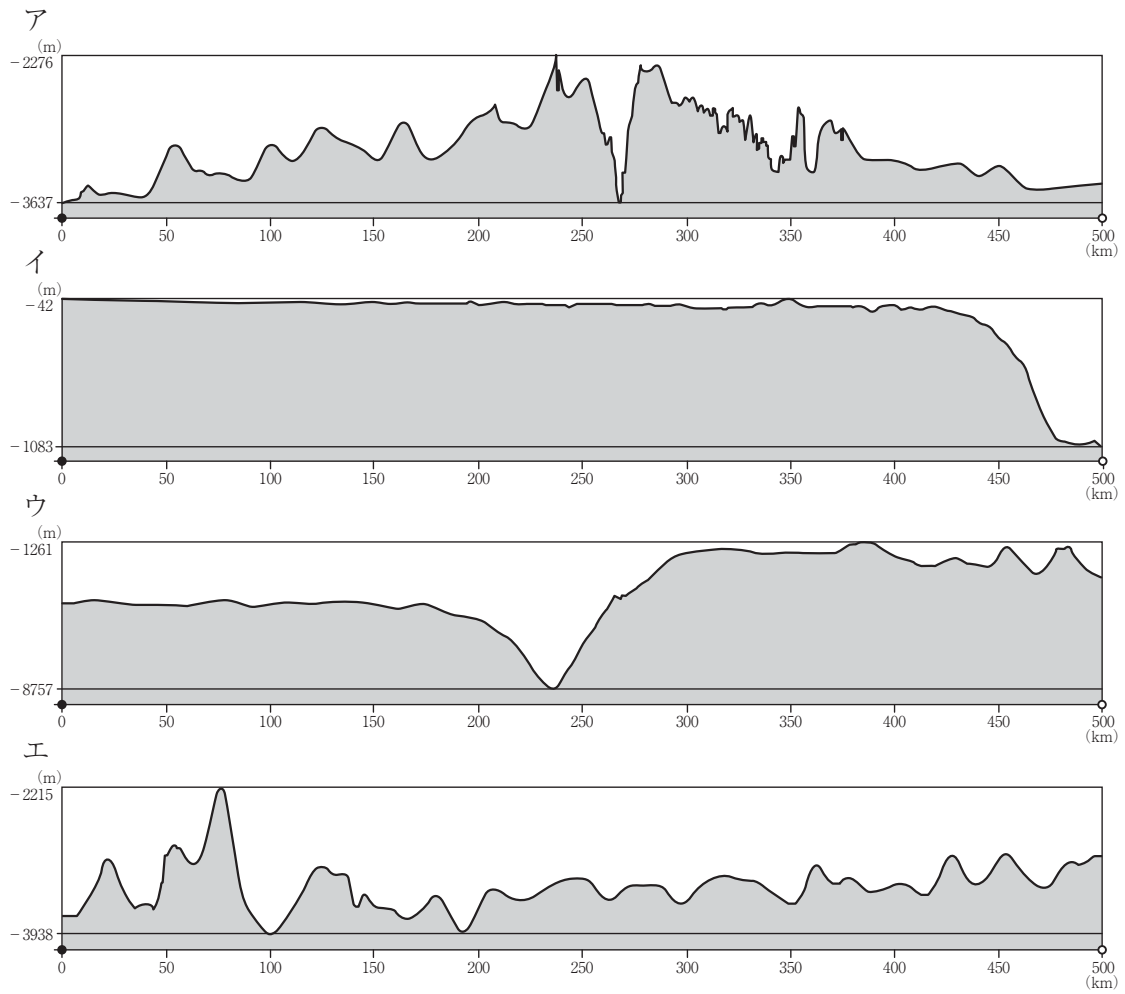


3 次の(1)～(8)の問いに答えなさい。

(1) 次の図は世界のおもなプレートの分布について示したものである。また次ページの  
ア～エの図は、次の図中のI～IVのいずれかの線に沿って切り取った海底の断面図で  
ある。次の図中のI～IVと海底の断面図ア～エの組み合わせとして正しいものを、次  
ページのa～dから一つ選びなさい。 ス

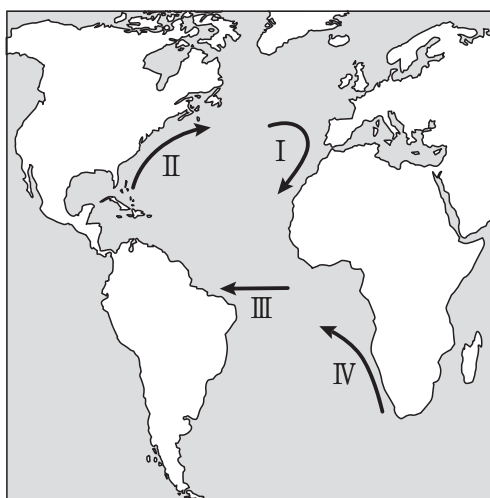


—— 広がる境界    ▤ 狭まる境界    — ずれる境界    - - - 未確定の境界



	図中の線	海底の断面図
a	I	エ
b	II	ア
c	III	ウ
d	IV	イ

(2) 次の図は、大西洋上のおもな海流を示したものである。図中のⅠ～Ⅳの海流とその分類の組み合わせとして正しいものを、下のa～dから一つ選びなさい。 セ



	I	II	III	IV
a	寒流	暖流	暖流	寒流
b	寒流	暖流	寒流	暖流
c	暖流	寒流	暖流	寒流
d	暖流	寒流	寒流	暖流

- (3) 次のⅠ～Ⅳの図は、日本の4つの地域における2万5千分の1地形図の一部（原寸）である。各図に見られる地形について述べた文として正しいものを、下のa～dから一つ選びなさい。

Ⅰ

Ⅱ

Ⅲ

Ⅳ

- a Ⅰの地形は、沈水海岸の一つで、海底でつくられた平坦面が、海岸に沿って階段状に配列する地形である。段丘面は堆積によるものと波食によるものがある。地盤の隆起が進む地域で形成されたので、古いものほど高位の段丘をつくる。
- b Ⅱの地形は、浅い海の堆積面が離水によって陸化してできた平野で、海岸に向かって緩やかに傾斜している。この地形が見られる九十九里浜は、縄文海進以降に形成された平野で、砂堤列とその間の低湿地からなり、海岸に近づくほど形成時期は新しくなる。
- c Ⅲの地形は、海岸から海に突き出すようにのびた細長い砂礫の州で、沿岸流によって入り江や湾を閉ざすようになっている。この閉ざされた入り江や湾をエスチュアリーという。
- d Ⅳの地形は、起伏の多い山地が海面下に沈んでできた海岸地形で、半島と細長い溺れ谷が交互になる海岸線をつくる。地形名は、スペイン北西部に見られるこの種の海岸が発達する湾名に由来する。湾奥は波も静かで、津波被害も受けにくい。

- (4) 次の表は、日本のいくつかの県の間における1年間の人口転出入数（同一県内の移動を含まない）を示したものであり、表中のⅠ～Ⅳは、岩手県、新潟県、岐阜県、宮崎県のいずれかである。岐阜県に該当するものを、下のa～dから一つ選びなさい。

タ

(単位：人)

転出前の 住所地	転入後の住所地					
	神奈川県	兵庫県	Ⅰ	Ⅱ	Ⅲ	Ⅳ
神奈川県	－	3,713	1,141	1,883	727	893
兵庫県	5,269	－	130	270	371	575
Ⅰ	1,820	160	－	166	15	66
Ⅱ	3,324	290	146	－	50	166
Ⅲ	1,146	491	18	36	－	106
Ⅳ	1,358	707	61	160	90	－

統計年次は2019年

(総務省統計局「住民基本台帳人口移動報告 長期時系列表（昭和29年～）」より作成)

a Ⅰ    b Ⅱ    c Ⅲ    d Ⅳ

- (5) 次の表は、日本の3つの市の1年間の卸売販売額・小売販売額・製造品出荷額を示したものである。表中のX～Zは金沢市、倉敷市、大分市のいずれかである。X～Zに当てはまる市名の組み合わせとして正しいものを、下のa～dから一つ選びなさい。

チ

(単位：10億円)

都市名	卸売販売額	小売販売額	製造品出荷額
X	552	495	4,019
Y	913	555	2,810
Z	2,073	593	458

統計年次は2015年

(総務省統計局「平成28年経済センサス」より作成)

	X	Y	Z
a	倉敷市	大分市	金沢市
b	大分市	倉敷市	金沢市
c	大分市	金沢市	倉敷市
d	倉敷市	金沢市	大分市

- (6) 次の表は、ヨーロッパの国別の国際観光客到着数と国際観光収入（2017年）を示したものであり、表中のⅠ～Ⅲは、ドイツ、フランス、オランダのいずれかである。Ⅰ～Ⅲに当てはまる国名の組み合わせとして正しいものを、下のa～dから一つ選びなさい。

ツ

国名	国際観光客到着数（千人）	国際観光収入（百万米ドル）
Ⅰ	86,918	60,681
スペイン	81,786	67,964
Ⅱ	37,452	39,823
イギリス	37,651	51,211
Ⅲ	17,924	15,867

（UNWTO「Tourism Highlights 2018 Edition」より作成）

	Ⅰ	Ⅱ	Ⅲ
a	フランス	ドイツ	オランダ
b	フランス	オランダ	ドイツ
c	ドイツ	オランダ	フランス
d	ドイツ	フランス	オランダ

- (7) 次の表は、主要な国の木材伐採高とその内訳（2018年）を示したものであり、表中のⅠ～Ⅳは、アメリカ合衆国、カナダ、エチオピア、中国のいずれかである。Ⅰ～Ⅳに当てはまる国名の組み合わせとして正しいものを、下のa～dから一つ選びなさい。

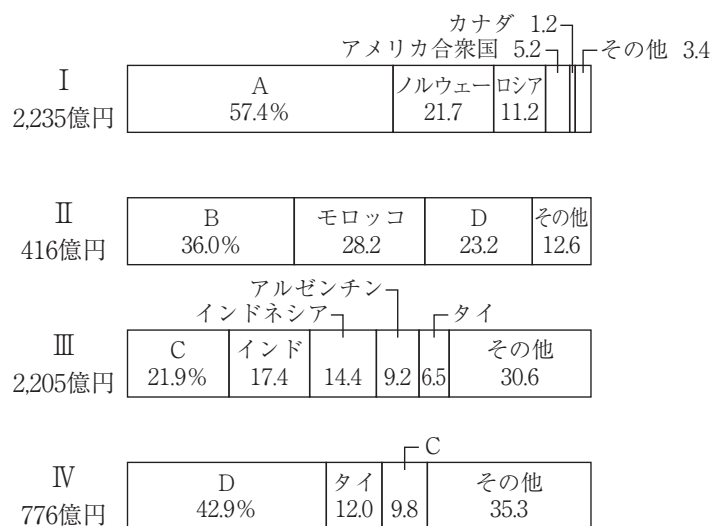
テ

	木材伐採高 （百万m <sup>3</sup> ）	用材の割合 （%）	薪炭材の割合 （%）	針葉樹の割合 （%）
Ⅰ	439	83.9	16.1	66.3
インド	353	14.0	86.0	4.3
Ⅱ	343	52.5	47.5	27.5
ブラジル	282	56.2	43.8	17.0
ロシア	236	93.0	7.0	79.2
Ⅲ	152	99.0	1.0	79.9
Ⅳ	115	2.6	97.4	6.8

（『世界国勢図会 2020/21年版』より作成）

	Ⅰ	Ⅱ	Ⅲ	Ⅳ
a	カナダ	エチオピア	アメリカ合衆国	中国
b	アメリカ合衆国	中国	カナダ	エチオピア
c	アメリカ合衆国	エチオピア	カナダ	中国
d	カナダ	中国	アメリカ合衆国	エチオピア

- (8) 次の図は、日本のおもな魚介類の輸入総額とその内訳（2017年）を示したものであり、図中のⅠ～Ⅳの魚介類は、「えび」「たこ」「いか」「さけ・ます」のいずれかである。また、図中のA～Dの国は、ベトナム、中国、チリ、モーリタニアのいずれかである。Ⅰ～Ⅳに当てはまる魚介類名とA～Dに当てはまる国名の組み合わせとして正しいものを、下のa～dから一つ選びなさい。



(農林水産省「農林水産物輸出入概況」より作成)

	魚介類名	国名
a	Ⅰ－いか	A－チリ
b	Ⅱ－たこ	B－中国
c	Ⅲ－えび	C－ベトナム
d	Ⅳ－さけ・ます	D－モーリタニア

第2問 次の1・2の問いに答えなさい。

1 次の会話文を読み、続く(1)～(3)の問いに答えなさい。

- れん 絵画や文字の普及に大きく影響したのが、中国で開発された製紙法だよね。  
 ゆう 中国で開発された製紙法は8世紀にはイスラーム世界に伝わったみたいだね。  
 こう ①タラス河畔の戦いがそのきっかけになったそうだよ。  
 れん タラス河畔の戦い以前からサマルカンドには製紙所があったという説もあるね。  
 ゆう 紙はその後、イスラーム世界の記録媒体となり、文化の興隆に役立ったね。  
 こう 紙は原材料が入手しやすく扱いが容易だからね。  
 れん 製紙法はシチリア島やイベリア半島を經由して②ヨーロッパに伝わったそうだ。  
 ゆう 紙の普及で壁画だけではなく紙に描かれた絵画も増えたのだろうね。  
 こう ③壁画や絵画を読み取ることで世界史の学びはより深いものになるね。

(1) 下線部①に関連して、このときに戦った中国の王朝について述べた文として正しいものを、次のa～dから一つ選びなさい。

- a 経典解釈の正しい基準を示すため、『五経大全』を編纂した。
- b 官吏任用制度として、郷挙里選にかわって九品中正を始めた。
- c 大秦王安敦の使者と称する者が、日南郡に來航した。
- d 財政難を解決するため、租調庸制にかわって両税法を採用した。

(2) 下線部②に関連して、次の史料が示す演説（一部省略したところがある）を行った人物と、史料中下線部に関わる議会が開催された都市の組み合わせとして正しいものを、下のa～dから一つ選びなさい。

たとえ軍備がわれわれの貧弱な身体にとって大きすぎるものとなりましようとも、それがわれに有益であるかぎり、われわれはそれを身につける情熱をもつものであり、またあえてそうすることを好むのであります。[略] 言論や多数決によっては、現下の大問題は解決されないのであります。言論や多数決は1848年および1849年の欠陥でありました。鉄と血によってこそ問題は解決されるのであります。

- a 人物－ビスマルク      都市－フランクフルト
- b 人物－ビスマルク      都市－ウィーン
- c 人物－メッテルニヒ    都市－フランクフルト
- d 人物－メッテルニヒ    都市－ウィーン



- (3) 下線部③に関連して、次の図ア～エについて述べた文として正しいものを、下の a～d から一つ選びなさい。

ア

イ

エ

ウ

- a アは、ネアンデルタール人によって描かれたラスコーの洞穴絵画で、動物や狩猟場面が描かれている。
- b イは、教皇グレゴリウス7世が、皇帝ハインリヒ4世に謝罪しようとする場面が描かれている。
- c ウは、日本がイギリスとアメリカの経済的援助を受けロシアに宣戦する様子が描かれている。
- d エは、ドイツ空軍の爆撃により焦土となったフランスの都市を題材にしている。

2 次の(1)～(4)の問いに答えなさい。

(1) 海洋・山脈・砂漠などによって外界から隔てられた地域について述べた文として誤っているものを、次のa～dから一つ選びなさい。

- a アーリア人は、カイバル峠をこえ、インダス川流域のパンジャーブ地方に進入した。
- b 20世紀初頭に、スウェーデンのヘディンが桜蘭の遺跡を発見した。
- c 1909年にノルウェーのアムンゼンが北極点に到達した。
- d ニュージーランドでは、先住民のマオリ人の抵抗がイギリスにより鎮圧された。

(2) 次の地図中の河川XとYは、ドナウ川かライン川のいずれかを示したものである。河川XとYについて述べた下の文ア～エの正誤の組み合わせとして正しいものを、下のa～dから一つ選びなさい。



- ア ローマ帝国は河川Xを越えてダキアに進出した。
- イ 第一次世界大戦でドイツは河川X沿いのベルギーに侵入した。
- ウ フランク人は河川Yを越えてガリア北部に移動した。
- エ ノルマン人は河川Yの流域にノヴゴロド国を建国した。

- a 正－ア・ウ 誤－イ・エ
- b 正－ア・エ 誤－イ・ウ
- c 正－イ・ウ 誤－ア・エ
- d 正－イ・エ 誤－ア・ウ

(3) 中国の北方民族について述べた文として正しいものを、次の a～d から一つ選びなさい。

- a 契丹は澶淵の盟により、毎年多額の銀や絹を宋におくこととなった。
- b モンゴルのフビライは大都に都を定めて南宋を滅ぼし、中国全土を支配した。
- c オイラトのエセン＝ハンが明への侵入を試みたものの、土木堡で正統帝に捕らえられた。
- d 突厥はエフタルと結んで、ササン朝を滅ぼした。

(4) 冷戦下の出来事について述べた文として正しいものを、次の a～d から一つ選びなさい。

- a ソ連がキューバにミサイル基地を建設すると、それに反発したアメリカのニクソン大統領がその撤去を求めて海上封鎖を行い、緊張が高まった。
- b ベトナムでは北緯17度線を境に、ゴ＝ディン＝ジエム大統領のベトナム民主共和国とホー＝チ＝ミン大統領のベトナム共和国が並存した。
- c 北朝鮮が北緯38度線を越えて韓国へと侵攻し朝鮮戦争が始まるが、国連安全保障理事会においてソ連が反対したため国連軍は派遣されなかった。
- d ソ連がドイツの西側地区の通貨改革に反対し、西ベルリンへの交通を遮断したため、アメリカ・イギリス・フランスは物資を空輸して対抗した。

第3問 次の1～3の問いに答えなさい。

1 次の史料を読み、続く(1)・(2)の問いに答えなさい。

第七十二代、第三十九世、白河院……天下ヲ治給コト十四年。……世ノ政ヲハジメテ院中ニテシラセ給。後ニ出家セサセ給テモ猶ソノマヽニテ御一期<sup>(注1)</sup>ハスゴサセマシ〜キ。……此御代ニハ院ニテ政ヲキカセ給ヘバ、執柄<sup>(注2)</sup>ハタゞ職ニソナハリタルバカリニナリヌ。サレドコレヨリ又フルキスガタハ一変スルニヤ侍ケン。執柄世ヲオコナハレシカド、宣旨・官符ニテコソ天下ノ事ハ施行セラレシニ、此御時ヨリ院宣・序御下文ヲオモクセラレシニヨリテ在位ノ君又位ニソナハリ給ヘルバカリナリ。世ノ末ニナレルスガタナルベキニヤ。

(神皇正統記)

(注1) 御一代。崩御まで (注2) 摂政・関白の異称

(1) 下線部に関連して、ある生徒は、史料の筆者が下線部のように表現した理由について、史料の記述をもとに、次のようなレポートをまとめた。空欄  ～  に当てはまる語句の組み合わせとして正しいものを、下のa～dから一つ選びなさい。

摂関政治の時代には、摂政・関白が権力を握っていたものの、天皇や太政官の発する  によって政治が運営されていた。しかし、院政が開始されると、 よりも、上皇の発する  が、政治の動向に影響を与えるようになった。このことによって、 の権威はないがしろにされることとなり、こうした事態を、史料の筆者は、「世ノ末ニナレルスガタ」と表現したと思われる。

- |   |           |           |      |
|---|-----------|-----------|------|
| a | A 院宣      | B 宣旨・太政官符 | C 院  |
| b | A 宣旨・太政官符 | B 院宣      | C 天皇 |
| c | A 院宣      | B 宣旨・太政官符 | C 天皇 |
| d | A 宣旨・太政官符 | B 院宣      | C 院  |

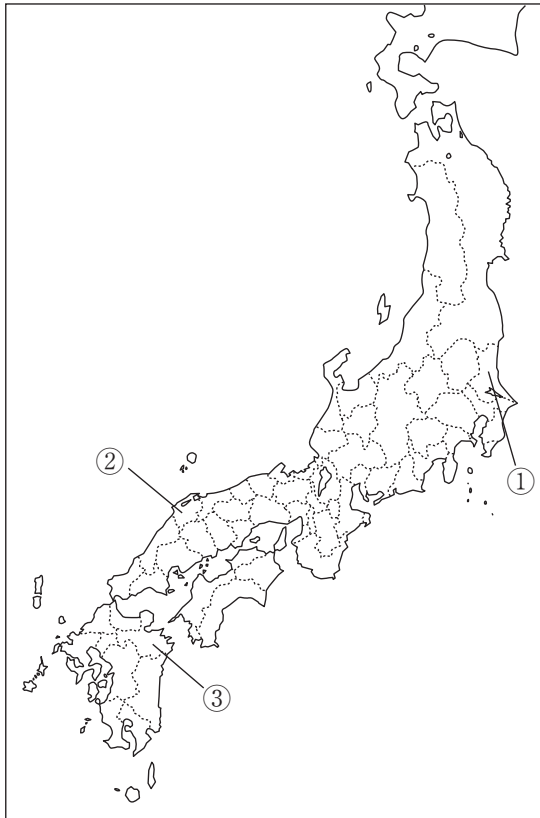
(2) 11～12世紀の出来事に関して述べた次の文，XとYの正誤の組み合わせとして正しいものを，下のa～dから一つ選びなさい。

X 清衡，基衡，秀衡の三代にわたって繁栄を誇った奥州藤原氏は，陸奥の平泉を根拠地として，金や馬などの産物の富で京都文化を移入し，北方の地との交易によって独自の文化を育てた。

Y 伊勢・伊賀を地盤とする伊勢平氏は，平正盛が上皇に荘園を寄進するなどして上皇との関係を強め，正盛の子の忠盛が海賊平定などで活躍して力をのばした。その後，忠盛の子である清盛は，平治の乱後，太政大臣となり，その子ら一族も高位高官にのぼって，さらに勢力を拡大した。

- a X－正 Y－正      b X－正 Y－誤  
c X－誤 Y－正      d X－誤 Y－誤

- 2 奈良時代には、政府は諸国に命じて、その国の地理、産物、伝承などを記載させた『風土記』を提出させた。地図中の①～③は『風土記』が伝えられている国の一部であるが、地図中の①～③と国名の組み合わせとして正しいものを、下のa～dから一つ選びなさい。



- |   |        |        |        |
|---|--------|--------|--------|
| a | ① - 常陸 | ② - 出雲 | ③ - 豊後 |
| b | ① - 下野 | ② - 石見 | ③ - 豊後 |
| c | ① - 下野 | ② - 石見 | ③ - 豊前 |
| d | ① - 常陸 | ② - 出雲 | ③ - 豊前 |

## 3 次の文を読み、続く(1)～(4)の問いに答えなさい。

徳川家康から徳川家光にかけての三代の将軍の治世で、将軍の権威は高まり、戦乱のない世となったが、その間の大名の改易や減封は多くの牢人を生み出し、社会の秩序を乱す原因となった。1651年の  をきっかけに、幕府は末期養子の禁の緩和や殉死の禁止を命じるなど従来の方針を転換し、さらに5代将軍徳川綱吉の時には、儒学者の登用や儀礼の重視、朝廷との結びつきの強化が進められた。

幕政の安定や幕府による貿易統制は、<sup>A</sup>江戸時代の経済の目覚ましい発展や国内の流通機構の整備を生んだ。また、中世末期以来の新田開発は町人の資本も利用して大規模に展開されるようになり、農業生産も拡大した。

一方で、幕府財政は明暦の大火や金山・銀山からの収入の減少などで行き詰まりを見せ始めていた。勘定吟味役でのちに勘定奉行となった萩原重秀は、<sup>B</sup>貨幣の改鑄による出目で幕府財政の立て直しを図ったが、物価騰貴を招いたとして6代・7代将軍に仕えた儒学者の<sup>C</sup>新井白石は、再び慶長金銀と同率の小判を鑄造させて、物価の安定を図ろうと試みた。しかし、相次ぐ改鑄はかえって混乱を招く結果となった。

(1) 空欄  に当てはまる出来事について説明した文として正しいものを、次の a～d の中から一つ選びなさい。

- a 『柳子新論』で尊王を唱え、幕政の腐敗を批判した兵学者が死刑に処せられた。
- b 将軍死去の間隙について軍学者らが幕府転覆計画を企てたが、未遂に終わった。
- c 大坂町奉行所の元与力の陽明学者が、貧民救済を掲げて武装蜂起した。
- d 有馬晴信や小西行長の旧領の土豪や百姓らが、苛酷な年貢を課しキリスト教徒を弾圧したことに抵抗し、蜂起した。

- (2) 下線部Aに関連して、江戸時代の経済に関して述べた次の文X～Zについて、年代の古いものから順に並べたものとして正しいものを、下のa～dから一つ選びなさい。

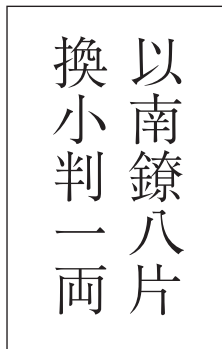
才

- X 伊勢松坂出身の三井高利が、江戸に越後屋呉服店を開いた。  
 Y 京都の豪商の角倉了以が、幕府の命によって富士川の整備を行った。  
 Z 徳川吉宗が行った享保の改革において、株仲間の結成が公認された。

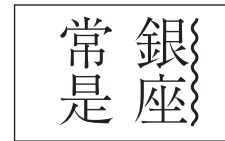
- a X → Y → Z    b X → Z → Y  
 c Y → X → Z    d Z → Y → X

- (3) 下線部Bに関連して、次の写真が示す貨幣に関連した文として誤っているものを、下のa～dから一つ選びなさい。

力



(表面)



(裏面)

- a 秤量貨幣であった金を中心に、貨幣制度を一本化するために鑄造された。  
 b 写真の貨幣は銀貨であり、8片で小判1両と交換できると読み取れる。  
 c 10代将軍の時代に側用人から老中になった人物が、鑄造を命じたものである。  
 d 波線で示した施設は伏見や駿府に置かれたが、のちに江戸に一本化された。
- (4) 下線部Cの人物が行った対外政策について述べた次の文、XとYの正誤の組み合わせとして正しいものを、下のa～dから一つ選びなさい。

キ

- X 多くの金銀が流失したので、これを防ぐために五品江戸廻送令を発した。  
 Y 朝鮮通信使の待遇を簡素化し、朝鮮からの日本宛国書に「日本国王」と記させた。

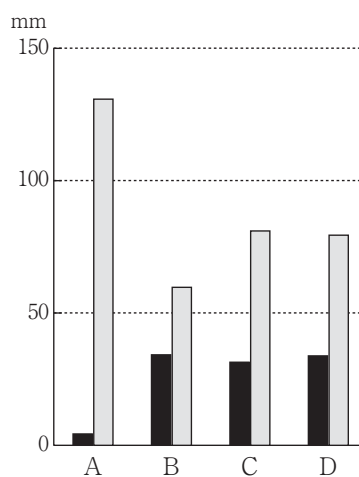
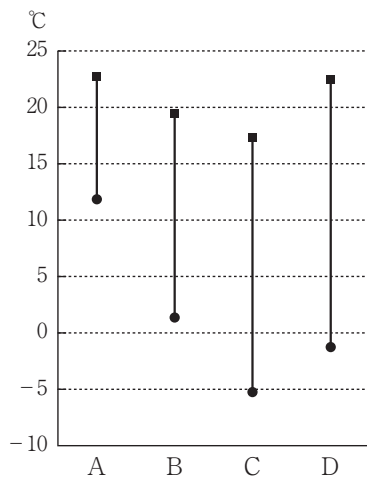
- a X - 正 Y - 正    b X - 正 Y - 誤  
 c X - 誤 Y - 正    d X - 誤 Y - 誤



第4問 ヨーロッパについて、次の1～6の問いに答えなさい。

1 下の図中のA～Dは、次の地図中のI～IVのいずれかの都市における最寒月と最暖月の月平均気温、および最少雨月と最多雨月の月降水量を示したものである。都市I～IVに該当するA～Dの組み合わせとして正しいものを、下のa～dから一つ選びなさい。

ア



最寒月と最暖月の月平均気温

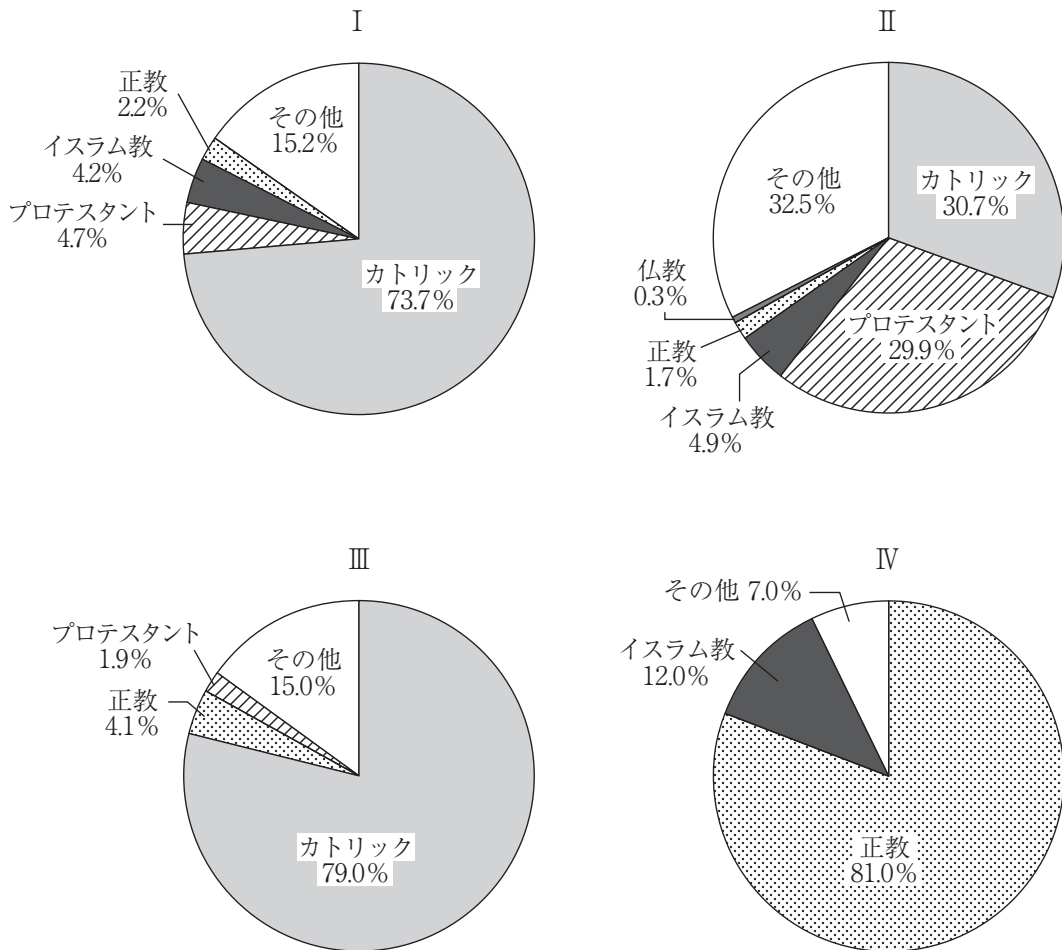
最少雨月と最多雨月の月降水量

※月平均気温および月降水量は、平均値を用いており、平均値は、1981～2010年の30年間のデータの平均をもとに算出している。

(気象庁「地点別データ・グラフ」より作成)

	I	II	III	IV
a	D	C	B	A
b	C	D	A	B
c	D	C	A	B
d	C	D	B	A

2 次の図I～IVは、ドイツ、オーストリア、ブルガリア、リトアニアのいずれかの国の宗教別人口の割合を示したものである。I～IVに当てはまる国名の組み合わせとして正しいものを、下のa～dから一つ選びなさい。 イ



(二宮書店『データブック オブ・ザ・ワールド 2020年版』より作成)

※各国のデータの年次は次の通りである。

ドイツー2010年，オーストリアー2001年，ブルガリアー2005年，  
リトアニアー2001年

	I	II	III	IV
a	ドイツ	ブルガリア	オーストリア	リトアニア
b	オーストリア	ドイツ	リトアニア	ブルガリア
c	ドイツ	オーストリア	リトアニア	ブルガリア
d	オーストリア	ドイツ	ブルガリア	リトアニア

- 3 次の表は、EU加盟国の農業に関する統計を示したものであり、表中のⅠ～Ⅳは、スウェーデン、フランス、イタリア、ハンガリーのいずれかである。Ⅰ～Ⅳに当てはまる国名の組み合わせとして正しいものを、下のa～dから一つ選びなさい。

ウ

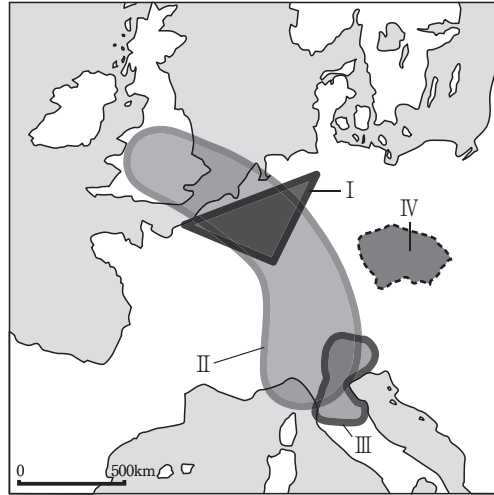
	農林水産業 就業人口の 割合 (2018年) (%)	国土面積に占める 農地の割合 (2017年) (%)	農畜産物の生産(2018年)(千トン)				
			小麦	いも類	米 (-は 不明)	牛乳	肉類
Ⅰ	4.8	57.0	5,246	331	12	1,977	1,037
Ⅱ	2.5	52.3	35,798	7,907	73	25,541	5,622
デンマーク	2.2	61.3	2,655	1,807	-	5,694	1,874
Ⅲ	1.7	6.8	1,620	720	-	2,760	570
Ⅳ	3.8	42.6	6,933	1,315	1,512	11,944	3,668
スペイン	4.2	52.0	7,990	2,077	808	7,117	7,028

(『世界国勢図会 2020/21年版』より作成)

	Ⅰ	Ⅱ	Ⅲ	Ⅳ
a	ハンガリー	フランス	イタリア	スウェーデン
b	フランス	ハンガリー	スウェーデン	イタリア
c	ハンガリー	フランス	スウェーデン	イタリア
d	フランス	ハンガリー	イタリア	スウェーデン

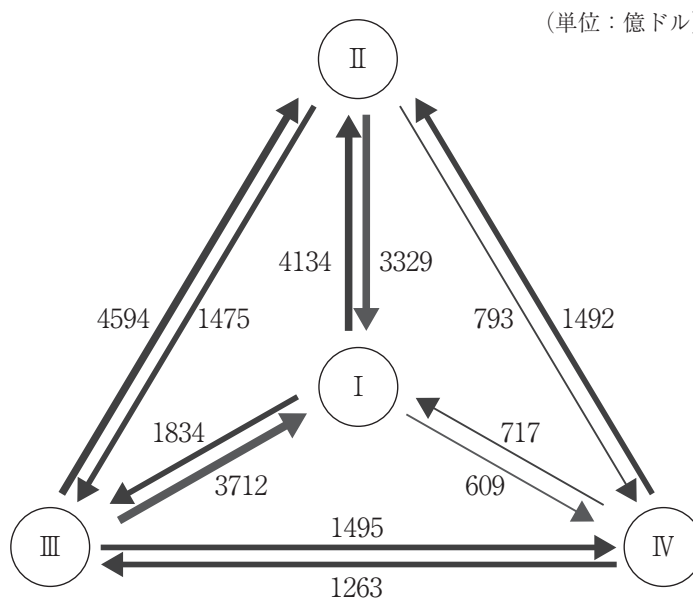
- 4 次の図は、ヨーロッパの主要な工業地域や国の範囲を示したものである。図中のⅠ～Ⅳについて述べた文として**適切でないもの**を、下の a～d から一つ選びなさい。

工



- a Ⅰは、第二次世界大戦後に西ヨーロッパの高度経済成長を支えた地域で、「重工業三角地帯」とよばれ、パリとハンブルク、ミュンヘンを結ぶ地域であった。
- b Ⅱは、イギリスのバーミンガムから、ドイツのルール地方を経て、イタリア北部に至る、ヨーロッパで産業が最も進んだ地域であり、「青いバナナ」とよばれている。
- c Ⅲは、「第3のイタリア」とよばれ、中小企業や職人による伝統工芸を中心とした産業に特色を持つ地域である。
- d Ⅳの国では、西ヨーロッパに比べて賃金が安く、低い生産コストですぐれた製品をつくることのできるため、西ヨーロッパの企業が生産拠点を移す動きがみられる。

5 次の図は、EU、NAFTA、日本、中国の経済関係について、輸出額（2014年）を数値で示したものである。図中のⅠ～Ⅳに当てはまる国名や組織の組み合わせとして正しいものを、下のa～dから一つ選びなさい。



(二宮書店『新編 詳解地理B 改訂版』より作成)

	I	II	III	IV
a	EU	中国	日本	NAFTA
b	NAFTA	EU	中国	日本
c	NAFTA	EU	日本	中国
d	EU	NAFTA	中国	日本

6 EUの政策や課題について述べた文として適切でないものを、次のa～dから一つ選びなさい。

- a 国境でのパスポートや身分証の提示なしで自由に人の通過を認めるリスボン条約が1995年に発効し、国境近くに暮らす人々は、国境を越えての買い物や通勤が可能となった。
- b 2002年から単一通貨・ユーロを貨幣として流通させ、国境をこえての企業間の通貨交換などの無駄がなくなり、域内の旅行や買い物も簡単になったが、ユーロ導入をためらっている加盟国もある。
- c 急増するアラブ、アフリカ諸国からの難民に対して、EUは人道的支援としての資金援助や難民受け入れ分担などで合意したが、各国の対応や体制は一様ではなく、不法移民の規制など難民受け入れに関する課題は多い。
- d EU諸国の経済力は加盟国によって異なるため、金融政策を一つに統合することは難しく、ギリシャやスペインなどでは財政赤字の拡大によって経済危機が続き、IMFやEUが支援を行った。

## 【選択問題 高等学校】

第5問 高等学校学習指導要領（平成30年告示）の「第2章 第2節 地理歴史」について、次の1～5の問いに答えなさい。

- 1 次の文は、「第1款 目標」の一部である。（ A ）・（ B ）に該当する語句の組み合わせを、下のa～dから一つ選びなさい。

地理や歴史に関わる事象の意味や意義、特色や相互の関連を、（ A ）などを活用して多面的・多角的に考察したり、社会に見られる課題の解決に向けて構想したりする力や、考察、構想したことを効果的に説明したり、それらを基に（ B ）したりする力を養う。

- a A：概念 B：討議  
b A：資料 B：議論  
c A：概念 B：議論  
d A：資料 B：討議

- 2 次の文は、「第2款 各科目 第1 地理総合 1 目標」の一部である。（ A ）・（ B ）に該当する語句の組み合わせを、下のa～dから一つ選びなさい。

地理に関わる諸事象に関して、世界の（ A ）の多様性や、防災、地域や地球的課題への取組などを理解するとともに、地図や地理情報システムなどを用いて、調査や諸資料から地理に関する様々な情報を適切かつ（ B ）に調べまとめる技能を身に付けるようにする。

- a A：生活文化 B：主体的  
b A：自然環境 B：効果的  
c A：自然環境 B：主体的  
d A：生活文化 B：効果的

- 3 次の文は、「第2款 各科目 第1 地理総合 2 内容 B 国際理解と国際協力  
(2) 地球的課題と国際協力 ア 次のような知識を身に付けること。」の一部である。  
( A )・( B )に該当する語句の組み合わせを、下のa～dから一つ選びなさい。

ウ

世界各地で見られる地球環境問題、資源・エネルギー問題、人口・食料問題及び居住・都市問題などを基に、地球的課題の各地で共通する( A )や課題相互の関連性などについて( B )し理解すること。

- a A：傾向性 B：調査  
b A：一般性 B：大観  
c A：傾向性 B：大観  
d A：一般性 B：調査

- 4 次の文は、「第2款 各科目 第3 歴史総合 1 目標」の一部である。  
( A )・( B )に該当する語句の組み合わせを、下のa～dから一つ選びなさい。

エ

近現代の歴史の変化に関わる諸事象について、よりよい社会の実現を視野に課題を主体的に( A )、解決しようとする態度を養うとともに、多面的・多角的な考察や深い理解を通して涵養される日本国民としての自覚、我が国の歴史に対する( B )、他国や他国の文化を尊重することの大切さについての自覚などを深める。

- a A：追究 B：愛情  
b A：探究 B：関心  
c A：追究 B：関心  
d A：探究 B：愛情

- 5 次の文は、「第2款 各科目 第3 歴史総合 2 内容 B 近代化と私たち(2) 結び付く世界と日本の開国 イ 次のような思考力, 判断力, 表現力等を身に付けること。」の一部である。( A )・( B )に該当する語句の組み合わせを, 下のa~dから一つ選びなさい。

産業革命の影響, 中国の開港と日本の開国の背景とその影響などに着目して, ( A )を設定し, アジア諸国とその他の国や地域の動向を比較したり, 相互に関連付けたりするなどして, アジア諸国と欧米諸国との関係の ( B )などを多面的・多角的に考察し, 表現すること。

- a A: 主題      B: 変遷
- b A: 主題      B: 変容
- c A: 課題      B: 変遷
- d A: 課題      B: 変容



## 【選択問題 特別支援学校】

## 第5問

- 1 特別支援学校の対象となる障害の程度は、学校教育法施行令（昭和28年政令第340号）第22条の3で、次の表のとおり定められている。それぞれの障害の程度について、～に該当する語句を、それぞれ下のa～dから一つ選びなさい。

区 分	障 害 の 程 度
視覚障害者	両眼の視力がおおむね <input type="text" value="ア"/> 未満のもの又は視力以外の視機能障害が高度のもののうち、拡大鏡等の使用によつても通常の文字、図形等の視覚による認識が不可能又は著しく困難な程度のもの
聴覚障害者	両耳の聴力レベルがおおむね <input type="text" value="イ"/> デシベル以上のもののうち、補聴器等の使用によつても通常の話声を解することが不可能又は著しく困難な程度のもの
知的障害者	一 知的発達が遅滞があり、他人との意思疎通が困難で日常生活を営むのに頻繁に援助を必要とする程度のもの 二 知的発達遅滞の程度が前号に掲げる程度に達しないものうち、 <input type="text" value="ウ"/> への適応が著しく困難なもの
肢体不自由者	一 肢体不自由の状態が補装具の使用によつても歩行、筆記等日常生活における <input type="text" value="エ"/> が不可能又は困難な程度のもの 二 肢体不自由の状態が前号に掲げる程度に達しないものうち、常時の医学的観察指導を必要とする程度のもの
病弱者	一 慢性の呼吸器疾患、腎臓疾患及び神経疾患、悪性新生物その他の疾患の状態が継続して医療又は <input type="text" value="オ"/> を必要とする程度のもの 二 身体虚弱の状態が継続して <input type="text" value="オ"/> を必要とする程度のもの

a 0.1    b 0.2    c 0.3    d 0.4

a 50    b 60    c 70    d 80

a 家庭生活                      b 学校生活                      c 社会生活  
d 職業生活

a 連続的な動作    b 初歩的な動作    c 基本的な動作  
d 目的的な動作

a 生活規制                      b 運動規制                      c 生活の管理  
d 体調の管理

- 2 次の文は、中央教育審議会（答申）『令和の日本型学校教育』の構築を目指して～全ての子供たちの可能性を引き出す、個別最適な学びと、協働的な学びの実現～（令和3年1月26日）の「第Ⅱ部 各論 4. 新時代の特別支援教育の在り方について」の一部である。文中の  ～  に該当する語句を、それぞれ下の a～d から一つ選びなさい。

(4) 関係機関の連携強化による切れ目ない支援の充実

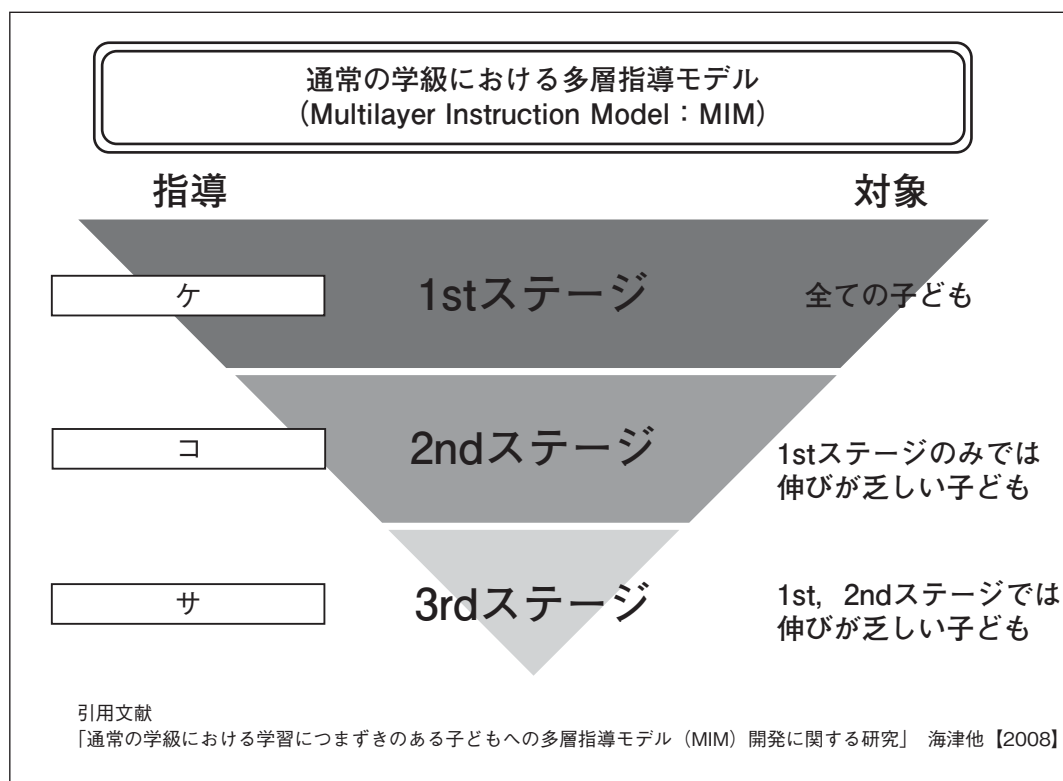
○特別支援学校におけるキャリア教育では、学校で学ぶことと  との接続を意識させ、一人一人の社会的・職業的自立に向けて必要な基盤となる資質・能力を育み、キャリア発達を促すことが重要である。そのため、早期からのキャリア教育では、保護者や身近な教師以外の大人とのコミュニケーションの機会や、 を高める経験、産業構造や進路を巡る環境の変化等の現代社会に即した情報等について理解を促すような活動が自己のキャリア発達を促す上で重要であることから、その実施に当たっては、地域の  関係機関との連携等による機会の確保の充実が必要である。

a 家庭      b 福祉      c 社会      d 企業

a 倫理観      b 自己肯定感      c 生活能力      d メタ認知能力

a 医療      b 就労      c 保健      d 福祉

- 3 高知県教育委員会で作成した『すべての子どもが「分かる」「できる」授業づくりガイドブック』（平成25年3月）において，次の図は，通常の学級における多層指導モデルとして示されている。図の  ～  に当てはまる語句を，下の a ～ d から一つずつ選びなさい。



- a 通常の学級内での補足的な指導
- b 補足的・集中的・柔軟な形態によるサービスの指導
- c 通常の学級内での効果的な指導
- d 補足的・集中的・柔軟な形態による特化した指導



